

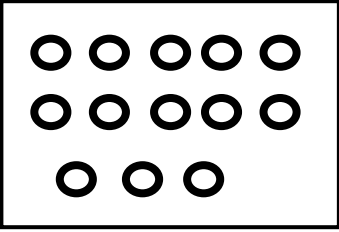
தரம் 3 கணிதம்


5 எண்களைக் கழித்தல்


செயலட்டை 4


பயிற்சி 1

➤ நீக்கும் எண்ணிக்கையை கழித்து விடையை எழுதுக.

1.)  $\begin{array}{r} 13 \\ - 9 \\ \hline \hline \end{array}$

2.)  $\begin{array}{r} 16 \\ - 8 \\ \hline \hline \end{array}$

3.)  $\begin{array}{r} 17 \\ - 5 \\ \hline \hline \end{array}$

4.)  $\begin{array}{r} 15 \\ - 5 \\ \hline \hline \end{array}$

பயிற்சி 2

➤ கழிக்கவும்

1.) 7

- 4

$\begin{array}{r} \hline \hline \end{array}$

2.) 9

- 6

$\begin{array}{r} \hline \hline \end{array}$

3.) 12

- 2

$\begin{array}{r} \hline \hline \end{array}$

4.) 15

- 7

$\begin{array}{r} \hline \hline \end{array}$

5.) 16-8 =.....

6.) 17-6=....

7.) 18-8=....

8.) 12-5 =.....

9.) 11-5 =....

10.) 12 -4 =....

11.) 17-3 =.....

12.) 16-9 =....

13.) 18-6 =....

பயிற்சி 3

➤ வெற்றிடத்தில் பொருத்தமான விடைகளை எழுதவும்.

1.) $12 - 7 = \square$

7.) $15 - 9 = \square$

2.) $12 - \square = 7$

8.) $\square - 6 = 9$

3.) $\square - 5 = 7$

9.) $15 - \square = 6$

4.) $17 - 3 = \square$

10.) $13 - 5 = \square$

5.) $17 - \square = 14$

11.) $\square - 8 = 5$

6.) $\square - 14 = 3$

12.) $13 - \square = 8$

பயிற்சி 4

➤ எண் 7 இற்குரிய கழித்தற் பிணைப்புகளை எழுதவும்

